

**Проверочная работа  
по ИСТОРИИ****5 класс****Образец****Инструкция по выполнению работы**

На выполнение работы по истории даётся 45 минут. Работа состоит из двух частей и включает в себя 7 заданий. Часть 1 работы содержит задания по истории Древнего мира, в части 2 предложено задание, связанное с памятью народа России о Великой Отечественной войне.

Ответы на задания запишите в поля ответов в тексте работы. В случае записи неверного ответа зачеркните его и запишите рядом новый.

При выполнении работы не разрешается пользоваться учебником, рабочими тетрадями и другими справочными материалами.

При необходимости можно пользоваться черновиком. Записи в черновике проверяться и оцениваться не будут.

Советуем выполнять задания в том порядке, в котором они даны. В целях экономии времени пропускайте задание, которое не удаётся выполнить сразу, и переходите к следующему. Если после выполнения всей работы у Вас останется время, то Вы сможете вернуться к пропущенным заданиям.

***Желаем успеха!***

---

*Заполняется учителем, экспертом или техническим специалистом*

**Обратите внимание:** в случае, если какие-либо задания не могли быть выполнены целым классом по причинам, связанным с отсутствием соответствующей темы в реализуемой школой образовательной программе, в форме сбора результатов ВПР всем обучающимся класса за данное задание вместо балла выставляется значение «Тема не пройдена». В соответствующие ячейки таблицы заполняется н/п.

*Таблица для внесения баллов участника*

Номер задания	1	2	3	4	5	6	7	Сумма баллов	Отметка за работу
Баллы									

## Часть 1

В этой части работы даны задания по истории Древнего мира.

Прочтите перечень из четырёх тем и выполните задания, относящиеся к этому перечню.

## Перечень тем

А) шумерские города-государства

Б) Древняя Индия

В) Древний Египет

Г) Древняя Греция

1

Каждая из иллюстраций, приведённых ниже, относится к одной из указанных в перечне тем. Установите соответствие между темами и иллюстрациями: к каждой теме подберите по одной иллюстрации.



1)



2)



3)



4)

Запишите в таблицу выбранные цифры под соответствующими буквами.

Ответ:

А	Б	В	Г

## Перечень тем

А) шумерские города-государства

Б) Древняя Индия

В) Древний Египет

Г) Древняя Греция

2

Прочтите отрывок из исторического источника и определите, к какой из данных тем он относится. В ответе напишите букву, которой обозначена эта тема.

«У царя этого племени родился первенец, которому дали имя Гаутама. На седьмой день после рождения сына умерла его мать. Отец решил посвятить свою жизнь сыну. Он приказал огородить дом высокой стеной, чтобы ничто не могло смутить юную душу. В ворота пропускали только красивых и хорошо одетых людей. Прожив 29 лет, став мужем и отцом, Гаутама ни разу не выходил за ворота и наивно полагал, что всюду живут также беззаботно, как он. Но однажды он встретил дряхлого старца и понял, что старость неизбежна. Встретил больного и понял, что не вечно будет здоров. Он задумался о смерти и решил стать отшельником. Долго странствовал он, голодал и терпел лишения. И однажды, когда он сидел под огромным деревом, скрестив ноги, предаваясь глубокому размышлению, он обрёл мудрость».

Ответ:

**Выберите одну тему из перечня, а затем выполните относящиеся к этому перечню задания только по выбранной Вами теме. Перед выполнением каждого из относящихся к перечню заданий укажите букву, которой обозначена выбранная тема. Указанные в заданиях буквы должны быть одинаковыми.**

3

Выбранная тема:  (укажите букву в перечне).

Прочтите список слов и напишите слово, относящееся к выбранной Вами теме.

*Иероглифы, брахманы, клинопись, полис, патриции, конфуцианство.*

Ответ: \_\_\_\_\_

Объясните смысл этого слова.

Ответ: \_\_\_\_\_

**Перечень тем**

А) шумерские города-государства  
В) Древний Египет

Б) Древняя Индия  
Г) Древняя Греция

4

Выбранная тема:  (укажите букву в перечне).

Прочтите список событий (явлений, процессов) и напишите событие (явление, процесс), которое относится к выбранной Вами теме.

*Строительство пирамиды фараона Хеопса, изгнание Тарквиния Гордого, строительство городов из глины, существование кастовой системы, деятельность правителя Дария I, Марафонская битва.*

Ответ: \_\_\_\_\_

Используя знания по истории, расскажите об этом событии (явлении, процессе). Ваш рассказ должен содержать не менее двух исторических фактов.

---

---

---

---

---

---

---

---

---

---

---

---

---

---

---

---

---

---

---

---

---

---

---

---



На позициях 5 и 6 могут быть использованы задания одной из двух моделей.

**Модель 1**

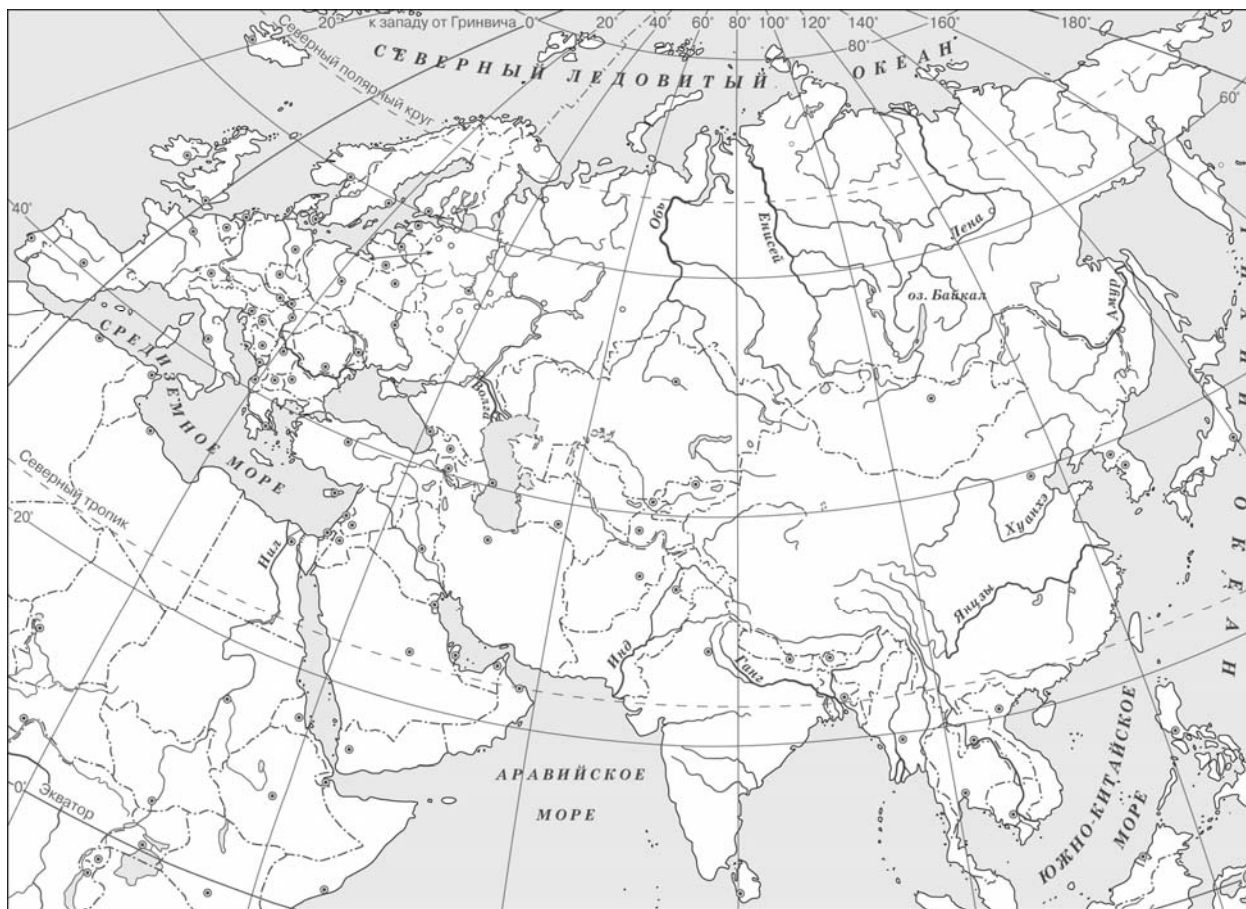
**Перечень тем**

- |                                 |                   |
|---------------------------------|-------------------|
| А) шумерские города-государства | Б) Древняя Индия  |
| В) Древний Египет               | Г) Древняя Греция |

5

Выбранная тема:  (укажите букву в перечне).

Заштрихуйте на контурной карте один четырёхугольник, образованный градусной сеткой (параллелями и меридианами), в котором полностью или частично располагалась страна (города-государства), указанная(-ые) в выбранной Вами теме.



6

Выбранная тема:  (укажите букву в перечне).

Используя знания исторических фактов, объясните, как природно-климатические условия повлияли на занятия жителей этой страны (городов-государств).

Ответ:

---



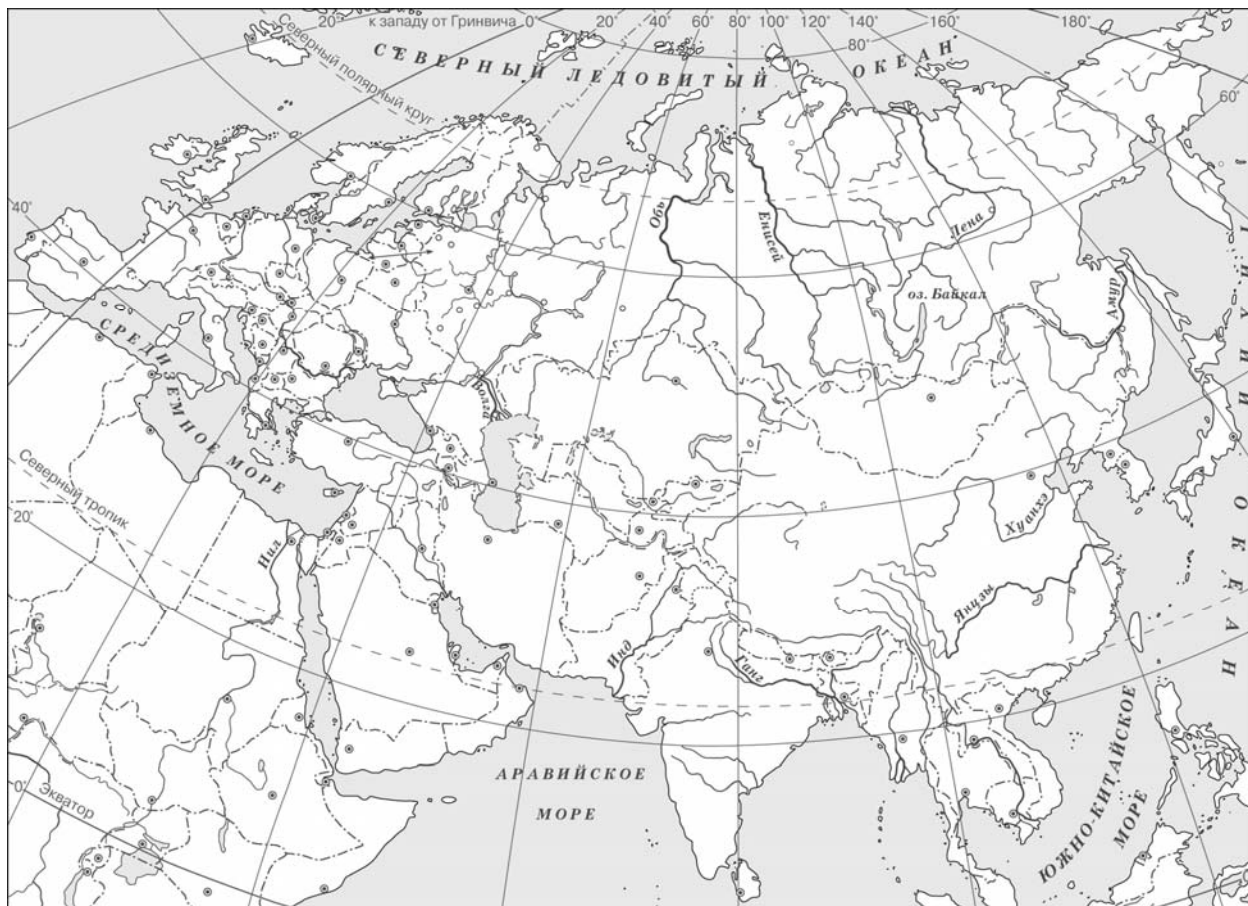
---



---

Модель 2

- 5 Заштрихуйте на контурной карте один четырёхугольник, образованный градусной сеткой (параллелями и меридианами), в котором располагался древний город Рим.



- 6 Используя знания исторических фактов, объясните, как природно-климатические условия повлияли на занятия жителей полуострова, на котором расположен древний город Рим.



Ответ: \_\_\_\_\_

---



---



---

Часть 2

7

Рассмотрите изображение и выполните задание.



Укажите год, когда была сделана данная фотография. Почему изображённые на фотографии события до сих пор имеют большое значение для всех граждан России?

Ответ: \_\_\_\_\_

\_\_\_\_\_

\_\_\_\_\_

\_\_\_\_\_

\_\_\_\_\_

\_\_\_\_\_

\_\_\_\_\_

\_\_\_\_\_

\_\_\_\_\_

\_\_\_\_\_

\_\_\_\_\_

**Проверочная работа  
по ИСТОРИИ****6 класс****Образец****Инструкция по выполнению работы**

На выполнение работы по истории даётся 45 минут. Работа включает в себя 8 заданий. Часть 1 работы посвящена истории России и истории зарубежных стран (история Средних веков), в части 2 предложено задание, связанное с памятью народа России о Великой Отечественной войне.

Ответы на задания запишите в поля ответов в тексте работы. В случае записи неверного ответа зачеркните его и запишите рядом новый.

При необходимости можно пользоваться черновиком. Записи в черновике проверяться и оцениваться не будут.

Советуем выполнять задания в том порядке, в котором они даны. В целях экономии времени пропускайте задание, которое не удаётся выполнить сразу, и переходите к следующему. Если после выполнения всей работы у Вас останется время, то Вы сможете вернуться к пропущенным заданиям.

***Желаем успеха!***

---

*Заполняется учителем, экспертом или техническим специалистом*

**Обратите внимание:** в случае, если какие-либо задания не могли быть выполнены целым классом по причинам, связанным с отсутствием соответствующей темы в реализуемой школой образовательной программе, в форме сбора результатов ВПР всем обучающимся класса за данное задание вместо балла выставляется значение «Тема не пройдена». В соответствующие ячейки таблицы заполняется н/п.

*Таблица для внесения баллов участника*

Номер задания	1	2	3	4	5	6	7	8	Сумма баллов	Отметка за работу
Баллы										



## Часть 1

В этой части работы даны задания по истории России и истории зарубежных стран (история Средних веков).

Прочтите перечень из четырёх событий (процессов) и выполните задания, относящиеся к этому перечню.

## Перечень событий (процессов)

А) Столетняя война

Б) образование Древнерусского государства

В) монгольское нашествие на Русь в XIII в.

Г) борьба Руси против монгольского владычества в XIV в.

1

Каждая из иллюстраций, приведённых ниже, относится к одному из указанных в перечне событий (процессов). Установите соответствие между событиями (процессами) и иллюстрациями: к каждому событию (процессу) подберите по одной иллюстрации.

1)




2)



3)



4)



Запишите в таблицу выбранные цифры под соответствующими буквами.

Ответ:

А	Б	В	Г

## Перечень событий (процессов)

А) Столетняя война

Б) образование Древнерусского государства

В) монгольское нашествие на Русь в XIII в.

Г) борьба Руси против монгольского владычества в XIV в.

2

Прочтите отрывок из исторического источника и определите, к какому из данных событий (процессов) он относится. В ответе напишите букву, которой обозначено это событие (процесс).

«И один из вельмож рязанских по имени Евпатий Коловрат был в то время в Чернигове вместе с князем Ингварем Ингоревичем... И уехал из Чернигова с малою дружиною, и мчался быстро. И приехал в землю Рязанскую, и увидел её опустошённой: грады разорены, церкви сожжены, люди убиты... Евпатий закричал в горести души своей и разгораясь сердцем. И собрал небольшую дружину – тысячу семьсот человек, которые Богом сохранены были вне города. И помчались вслед за царём [вражеским], и едва смогли догнать его... И внезапно напали на отдыхавшее войско вражеское...»

Ответ:

3

С каким из данных событий (процессов) связано слово «варяги»? Запишите букву, которой обозначено данное событие (процесс).

Ответ:

Объясните смысл слова «варяги».

Ответ:

---

---

---

---

---

На позициях 4, 5 могут быть использованы задания одной из двух моделей.  
Модель 1

Перечень событий (процессов)

- А) Столетняя война  
Б) образование Древнерусского государства  
В) монгольское нашествие на Русь в XIII в.  
Г) борьба Руси против монгольского владычества в XIV в.

*Выберите одно событие (процесс) из перечня, а затем выполните задания 4 и 5, рассматривая в каждом из заданий выбранное событие (процесс). Перед выполнением каждого из заданий 4 и 5 укажите букву, которой выбранное событие (процесс) обозначено в перечне. Указанные в заданиях 4 и 5 буквы должны быть одинаковыми.*

4

Выбранное событие (процесс):  (укажите букву в перечне).

Укажите две исторические личности, непосредственно связанные с выбранным Вами событием (процессом).

Укажите одно любое действие каждой из этих личностей, в значительной степени повлиявшее на ход и (или) результат этого события (процесса).

Ответ запишите в таблицу.



Не следует указывать исторические личности, упомянутые в отрывке из исторического источника в задании 2.

Ответ:

Личности	Действия
1.	
2.	

**Перечень событий (процессов)**

- А) Столетняя война                                      Б) образование Древнерусского государства  
В) монгольское нашествие на Русь в XIII в.      Г) борьба Руси против монгольского владычества в XIV в.

5

Выбранное событие (процесс):  (укажите букву в перечне).

Заштрихуйте на контурной карте один четырёхугольник, образованный градусной сеткой, в котором полностью или частично происходило выбранное Вами событие (процесс).



**Модель 2**

4

Укажите две исторические личности, которые были непосредственно связаны с присоединением Новгорода к Московскому государству.

Укажите одно любое действие каждой из этих личностей, в значительной степени повлиявшее на ход присоединения Новгорода к Московскому государству.

Ответ запишите в таблицу.

Ответ:

Личности	Действия
1.	
2.	



5

Заштрихуйте на контурной карте один четырёхугольник, образованный градусной сеткой, в котором располагалось Крымское ханство.



*Рассмотрите изображения*

1)



2)



3)



4)



6

На каких двух изображениях представлены памятники культуры России, а на каких – памятники культуры зарубежных стран? Запишите в таблицу порядковые номера соответствующих изображений.

Ответ:

Памятники культуры России		Памятники культуры зарубежных стран	

7) Какие из перечисленных памятников культуры были созданы до начала монгольского нашествия на русские земли? Выберите два памятника культуры и запишите в таблицу цифры, под которыми они указаны.

- 1) «Повесть временных лет»
- 2) «Повесть о разорении Рязани Батыем»
- 3) «Задонщина»
- 4) «Слово о Законе и Благодати»
- 5) «Повесть о житии Александра Невского»

Ответ: 

--	--

### Часть 2

8) Рассмотрите изображение и выполните задание.



Укажите название государственного праздника, на котором была сделана данная фотография. Объясните, почему в этот день граждане России испытывают «радость со слезами на глазах».

Ответ: \_\_\_\_\_  
\_\_\_\_\_  
\_\_\_\_\_  
\_\_\_\_\_  
\_\_\_\_\_  
\_\_\_\_\_  
\_\_\_\_\_  
\_\_\_\_\_



**Проверочная работа  
по ИСТОРИИ****7 класс****Образец****Инструкция по выполнению работы**

На выполнение работы по истории даётся 45 минут. Работа включает в себя 9 заданий. Часть 1 работы посвящена истории России и истории зарубежных стран (история Нового времени), в части 2 предложено задание, связанное с памятью народа России о Великой Отечественной войне.

Ответы на задания запишите в поля ответов в тексте работы. В случае записи неверного ответа зачеркните его и запишите рядом новый.

При необходимости можно пользоваться черновиком. Записи в черновике проверяться и оцениваться не будут.

Советуем выполнять задания в том порядке, в котором они даны. В целях экономии времени пропускайте задание, которое не удаётся выполнить сразу, и переходите к следующему. Если после выполнения всей работы у Вас останется время, то Вы сможете вернуться к пропущенным заданиям.

***Желаем успеха!***

---

*Заполняется учителем, экспертом или техническим специалистом*

**Обратите внимание:** в случае, если какие-либо задания не могли быть выполнены целым классом по причинам, связанным с отсутствием соответствующей темы в реализуемой школой образовательной программе, в форме сбора результатов ВПР всем обучающимся класса за данное задание вместо балла выставляется значение «Тема не пройдена». В соответствующие ячейки таблицы заполняется н/п.

*Таблица для внесения баллов участника*

Номер задания	1	2	3	4	5	6	7	8	9	Сумма баллов	Отметка за работу
Баллы											

## Часть 1

**В этой части работы даны задания по истории России и истории зарубежных стран в Новое время.**

1

Установите соответствие между событиями (процессами) и их участниками: к каждой позиции первого столбца подберите соответствующую позицию из второго столбца.

## СОБЫТИЯ (ПРОЦЕССЫ)

- А) создание единой системы денежного обращения в России  
 Б) Переяславская рада  
 В) начало реформации в Германии

## УЧАСТНИКИ

- 1) Елена Глинская  
 2) Фернан Магеллан  
 3) Д.Т. Трубецкой  
 4) Мартин Лютер  
 5) Б.М. Хмельницкий

Запишите в таблицу выбранные цифры под соответствующими буквами.

Ответ:

А	Б	В

2

Запишите термин, о котором идёт речь.

Предприятие, основанное на ручном труде работников, на котором существует разделение труда на отдельные производственные операции.

Ответ: \_\_\_\_\_.

**Прочтите отрывок из исторического источника и выполните задание 3.**

«Которые государевы дворцовых сёл и чёрных волостей крестьяне и бобыли, выбежав из государевых дворцовых сёл и из чёрных волостей... а в писцовых книгах... те беглые крестьяне или отцы их написаны за государем, и тех государевых беглых крестьян и бобылей, сыскивая, свозити в государевы дворцовые сёла и в чёрные волости, на старые их жеребьи, по писцовым книгам с жёнами и с детьми и со всеми их крестьянскими животы без урочных лет».

3

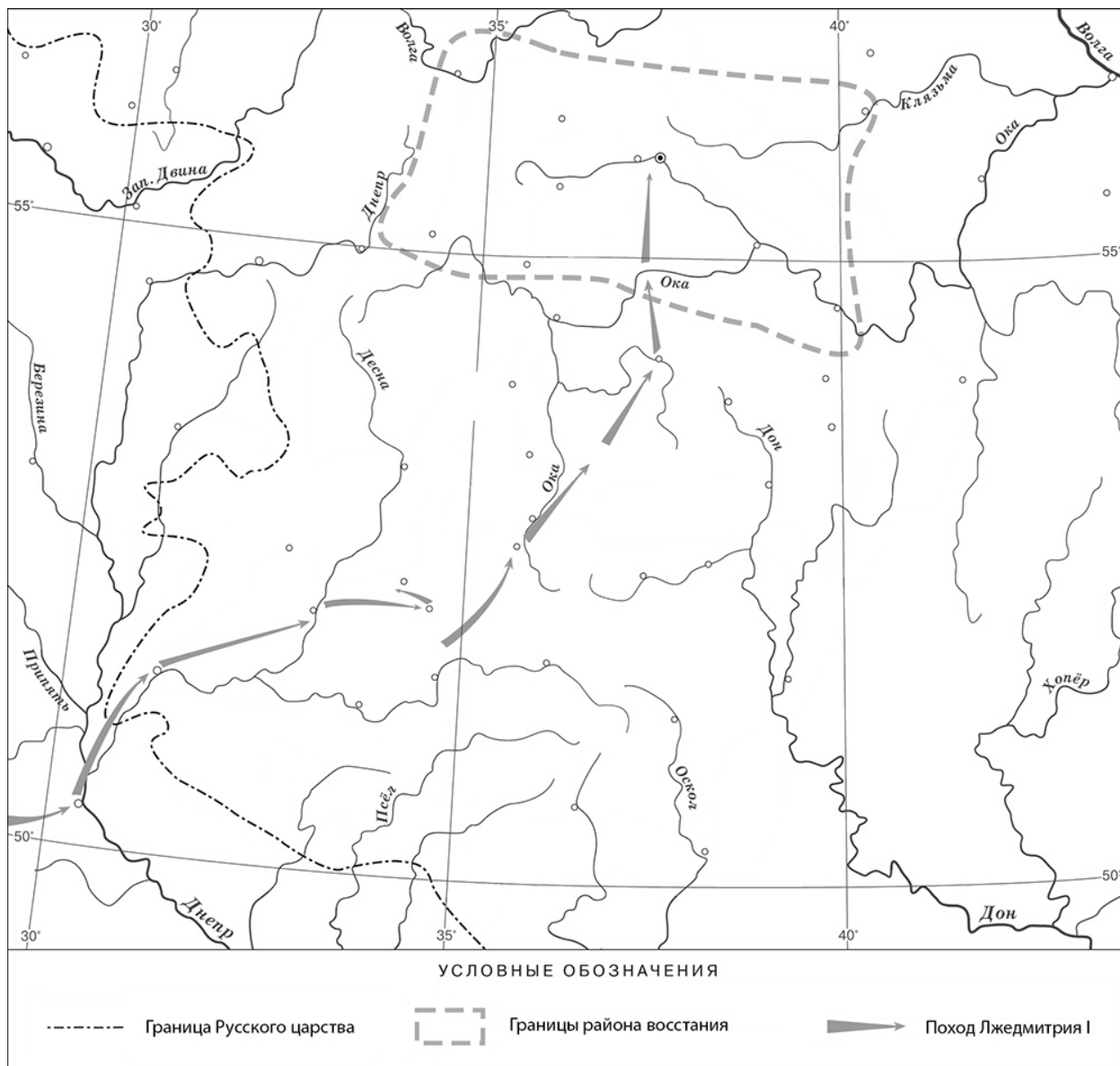
Укажите название данного исторического источника.

Ответ: \_\_\_\_\_

Укажите название народного восстания, с которым связано появление данного исторического источника.

Ответ: \_\_\_\_\_

**Рассмотрите карту и выполните задания 4, 5.**



**4** Назовите российского монарха в период, когда произошло восстание, границы района которого обозначены на карте.

Ответ: \_\_\_\_\_.

**5** Подпишите на карте город Москву и Речь Посполитую.




**Ознакомьтесь с приведённым перечнем и изображениями памятников культуры и выполните задания 6, 7.**

- 1) «Государев родословец»
- 2) «Калязинская челобитная»

3)



4)



6

Какие из приведённых памятников культуры были созданы в XVI в.? Выберите **два** памятника культуры и запишите в таблицу цифры, под которыми они указаны.

--	--

Ответ:

--	--

7

Создателем какого из приведённых памятников культуры был Симон Ушаков? Укажите порядковый номер этого памятника культуры.

--

Ответ:

--

На позиции 8 может быть использована только одна из двух моделей задания.

**Модель 1**

**8** Какой из приведённых исторических фактов можно использовать для аргументации следующей точки зрения: «Внешняя политика России в последние 10 лет царствования Ивана IV была неудачной»? Укажите порядковый номер этого факта в списке.

- 1) битва при Молодях
- 2) заключение Плюсского договора со Швецией
- 3) начало проведения политики опричнины

Ответ:

Объясните, как с помощью выбранного Вами факта можно аргументировать данную точку зрения.

Ответ: \_\_\_\_\_  
\_\_\_\_\_  
\_\_\_\_\_  
\_\_\_\_\_



**Модель 2**

**8** Укажите с точностью до десятилетия время, когда в России началась церковная реформа патриарха Никона. Укажите монарха, правившего в России в этот период. Приведите один любой факт, характеризующий ход этой реформы.

Время: \_\_\_\_\_

Монарх: \_\_\_\_\_

Факт: \_\_\_\_\_  
\_\_\_\_\_  
\_\_\_\_\_



**Часть 2**

9 Рассмотрите изображение и выполните задание.



В какой по счёту год с начала Великой Отечественной войны произошли события, которым посвящён данный памятник? Почему необходимо сохранять память о Великой Отечественной войне?



Ответ: \_\_\_\_\_

\_\_\_\_\_

\_\_\_\_\_

\_\_\_\_\_

\_\_\_\_\_

\_\_\_\_\_

\_\_\_\_\_

\_\_\_\_\_

\_\_\_\_\_

\_\_\_\_\_

\_\_\_\_\_

**Проверочная работа  
по ИСТОРИИ****8 класс****Образец****Инструкция по выполнению работы**

На выполнение работы по истории даётся 45 минут. Работа включает в себя 10 заданий. Часть 1 работы посвящена истории России и истории зарубежных стран (история Нового времени), в части 2 предложено задание, связанное с памятью народа России о Великой Отечественной войне или с важнейшими событиями истории нашей страны в XXI в.

Ответы на задания запишите в поля ответов в тексте работы. В случае записи неверного ответа зачеркните его и запишите рядом новый.

При необходимости можно пользоваться черновиком. Записи в черновике проверяться и оцениваться не будут.

Советуем выполнять задания в том порядке, в котором они даны. В целях экономии времени пропускайте задание, которое не удаётся выполнить сразу, и переходите к следующему. Если после выполнения всей работы у Вас останется время, то Вы сможете вернуться к пропущенным заданиям.

***Желаем успеха!***

---

*Заполняется учителем, экспертом или техническим специалистом*

**Обратите внимание:** в случае, если какие-либо задания не могли быть выполнены целым классом по причинам, связанным с отсутствием соответствующей темы в реализуемой школой образовательной программе, в форме сбора результатов ВПР всем обучающимся класса за данное задание вместо балла выставляется значение «Тема не пройдена». В соответствующие ячейки таблицы заполняется н/п.

*Таблица для внесения баллов участника*

Номер задания	1	2	3	4	5	6	7	8	9	10	Сумма баллов	Отметка за работу
Баллы												

## Часть 1

В этой части работы даны задания по истории России и истории зарубежных стран в Новое время.

- 1) Расположите в хронологической последовательности исторические события. Запишите цифры, которыми обозначены исторические события, в правильной последовательности в таблицу.
- 1) Полтавская битва
  - 2) присоединение Крыма к Российской империи
  - 3) начало войны за независимость североамериканских колоний Англии

Ответ:

--	--	--

Рассмотрите изображение и выполните задания 2, 3.



- 2) Назовите российского монарха, в период правления которого произошло изображённое на картине событие.

Ответ: \_\_\_\_\_.

- 3) Напишите название города, где произошло изображённое на картине событие.

Ответ: \_\_\_\_\_.



**Прочтите отрывок из исторического источника и выполните задание 4.**

«Князь Орлов цены не ставил моей работе и требовал часто тому или другому показать, но я более листа одного или другого не показывала вдруг. Наконец, подготовив манифест о созыве депутатов со всей Империи, дабы лучше опознать каждой округи состояние, съехались оные к Москве, где, быв в Коломенском дворце, назначила я разных персон, вельми разномыслящих, дабы выслушать заготовленный Наказ Комиссии Уложения. Тут при каждой статье родились прения. Я дала им волю чернить и вымарать всё, что хотели. Они более половины того, что написано мною было, помарали, и остался Наказ Уложения, яко напечатан, и я запретила на оного инако взирать, как единственно он есть, то есть правила, на которых основать можно мнение, но не яко закон, и для того по делам не выписывать яко закон, но мнение основать на оном дозволено».

4

Назовите автора данного документа.

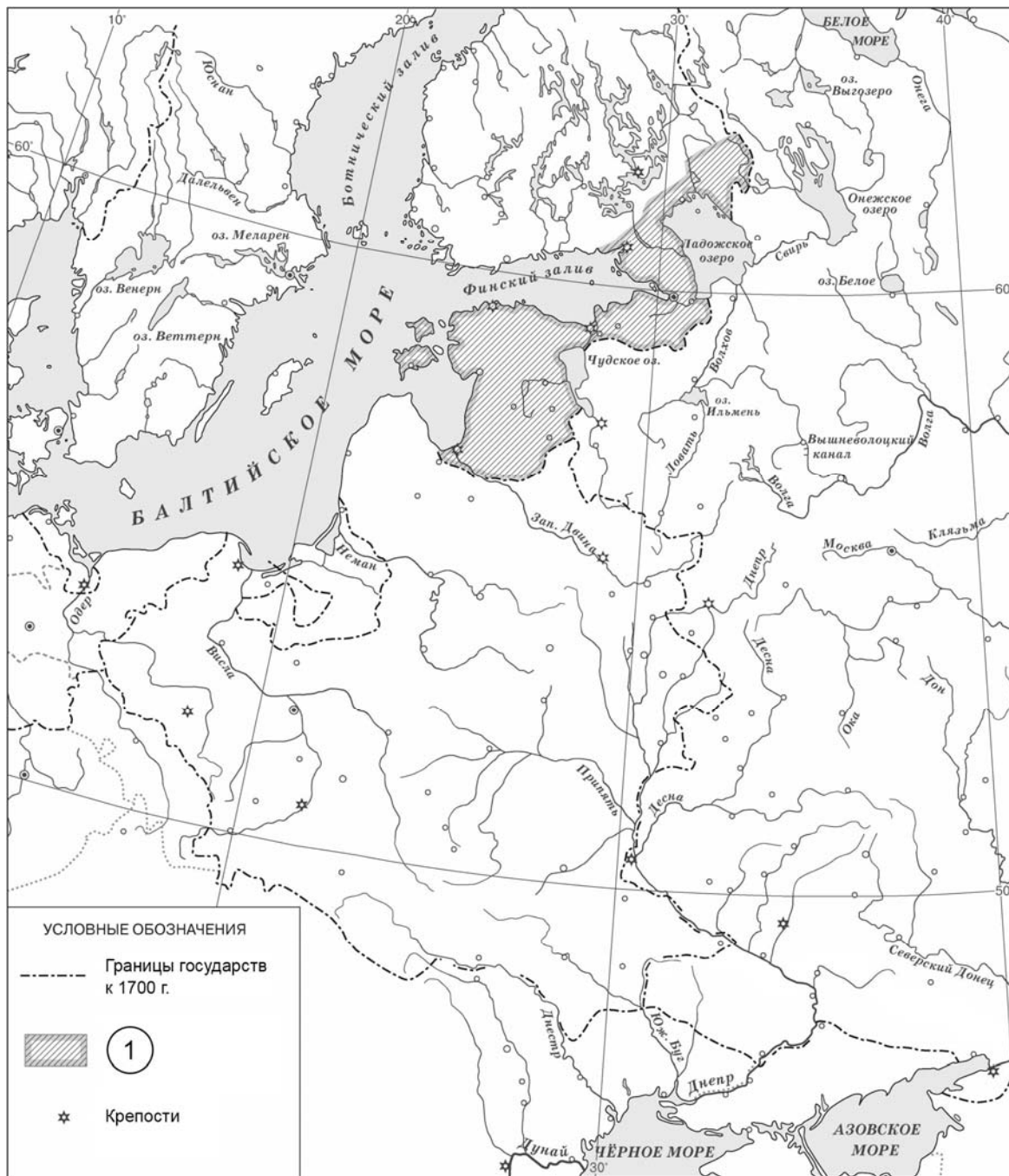
Ответ: \_\_\_\_\_

Укажите название политики, выражавшейся в преобразовании наиболее устаревших сторон жизни общества по инициативе монарха-реформатора, в рамках которой было создано собрание «депутатов со всей Империи», упомянутое в отрывке.

Ответ: \_\_\_\_\_

\_\_\_\_\_  
\_\_\_\_\_

Рассмотрите карту и выполните задания 5, 6.



5 Укажите название войны, в результате которой в состав России вошли территории, обозначенные в легенде карты цифрой «1».

Ответ: \_\_\_\_\_.

6 Подпишите на карте крепость Полтаву. Подпишите столицу России в конце войны, в результате которой в состав России вошли территории, обозначенные в легенде карты цифрой «1».

*Ознакомьтесь с приведённым перечнем и изображениями памятников культуры и выполните задания 7, 8.*

- 1) комедия «Недоросль»
- 2) «Калязинская челобитная»
- 3) «Повесть об Азовском осадном сидении»
- 4)



5)



7

Какие из приведённых памятников культуры были созданы в XVIII в.? Выберите **два** памятника культуры и запишите в таблицу цифры, под которыми они указаны.

Ответ:

--	--

8

Создателем какого из приведённых памятников культуры был Э.М. Фальконе? Укажите порядковый номер этого памятника культуры.

Ответ:

--

9

Какой из приведённых исторических фактов можно использовать для аргументации следующей точки зрения: «Политика Екатерины II была продолжением политики Петра III»? Укажите порядковый номер этого факта в списке.

- 1) издание указа о престолонаследии
- 2) принятие декларации о «вооружённом нейтралитете»
- 3) издание Жалованной грамоты дворянству

Ответ:

Объясните, как с помощью выбранного Вами факта можно аргументировать данную точку зрения.

Ответ:

---

---

---

---



Часть 2

10

Рассмотрите изображение и выполните задание.



Укажите название государства, в одном из городов которого находится изображённый на плакате военнослужащий. Почему участники Великой Отечественной войны пользуются безграничным уважением в нашей стране?



Ответ: \_\_\_\_\_

\_\_\_\_\_

\_\_\_\_\_

\_\_\_\_\_

\_\_\_\_\_

\_\_\_\_\_

\_\_\_\_\_

\_\_\_\_\_

ИЛИ

10

Рассмотрите изображение и выполните задание.



Укажите год, когда выпущена данная медаль. Почему произошло событие, годовщине которого посвящена данная медаль?



Ответ: \_\_\_\_\_

\_\_\_\_\_

\_\_\_\_\_

\_\_\_\_\_

\_\_\_\_\_

\_\_\_\_\_

\_\_\_\_\_

\_\_\_\_\_

\_\_\_\_\_

\_\_\_\_\_